

FICHA DE ESTUDO

História e Geografia de Portugal


6º ano

Lê com atenção e responde.

1. Identifica o invento que permitiu o desenvolvimento industrial.

.....

2. Observa a imagem e responde:



- a) Identifica e explica as duas principais alterações no fabrico e transformação dos produtos.

.....
.....
.....

3. Explica a transformação da paisagem por influência do desenvolvimento industrial.

.....
.....
.....



4. Indica as transformações operadas na paisagem por influência da extracção mineira.



.....
.....
.....
.....
.....
.....


5. Enumera dois locais donde se extraía o carvão.

.....

6. Os transportes e as comunicações aproximaram as pessoas.

a) Indica o que sabes sobre o comboio no século XIX.

.....
.....
.....
.....



b) Explica o que era a Malaposta.

.....
.....




7. A cultura modificou os hábitos das pessoas desta época.

a) Identifica os dois materiais utilizados na construção de edifícios.

.....
.....
.....


b) Indica uma característica da arte deste século.

.....
.....
.....



10.1. Explica como se desenvolveu o teatro.

.....
.....
.....



11. Os direitos humanos alcançaram grande importância.

11.1. Identificam duas medidas relacionadas com estes direitos.

.....
.....
.....