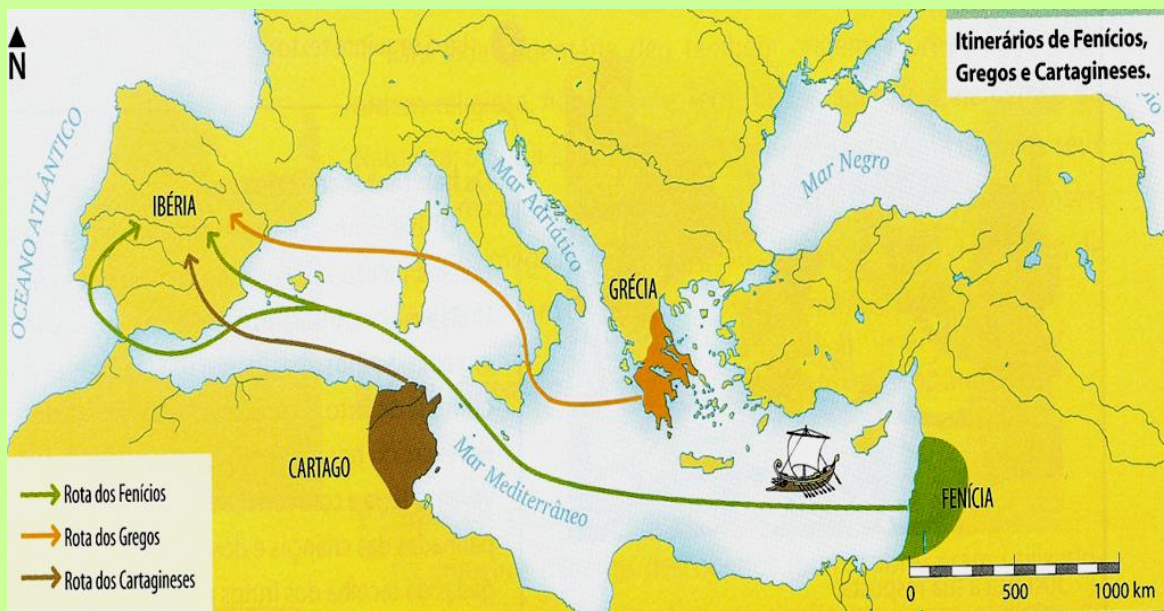


POVOS DO MAR MEDITERRÂNEO



ITINERÁRIO DOS POVOS M





Os **fenícios** foram um povo de _____ que saíram, do norte da região hoje conhecida como Líbano, para o norte da _____, em busca de novas rotas, tendo dominado o comércio no _____. Assim, os _____ fundaram portos e cidades em lugares tão longínquos .



CONTACTOS COMERCIAIS DOS F.



BARCO F



M _____ FENÍCIA



C _____ FENÍCIA

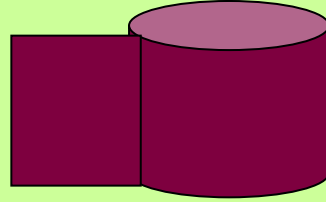


P _____ FENÍCIOS



Enriqueceram _____ comercializando
 _____ preciosos trazidos de
 outros países e produtos como
 _____, azeite, _____, jóias
 e, principalmente, a _____ dos
 famosos cedros do Líbano. Na época,
 florestas de cedro cobriam as
 montanhas íngremes que se elevam no
 litoral.

TECIDOS DE PÚRPURA



Entre os produtos do artesanato fenício, os mais famosos eram, talvez, os tecidos tingidos de cor _____. Os fenícios tinham alcançado uma notável habilidade na arte do _____ e os tecidos eram apreciados a ponto de se tornarem sinal de _____. Os fenícios usavam tecidos de _____ ou _____, que tingiam a partir de um pigmento obtido de moluscos chamados de _____ ou murex, encontrados nas águas das costas do _____. O processo era muito complicado e demorado e, por isso, o preço desses tecidos era _____.




Os **gregos** eram, inicialmente, um conjunto de tribos que apresentavam factores comuns, como a _____ e a _____, dando início a uma das mais importantes _____.

G _____



B _____ GREGO



M _____ GREGA




V _____ GREGOS






Cartago significa “Nova Cidade”, sendo, originariamente, uma _____ fenícia. Situava-se no norte da África, junto à _____ e vivia do _____.

B_____ CARTAGINÊS





O _____ comercial cartaginês teve início a partir do contacto com os povos do sul da Península _____. Era um local rico em _____, necessário para os cartagineses fabricarem _____ em bronze.