



1 e 2 – Afonso VI entregou a D. Henrique o ...

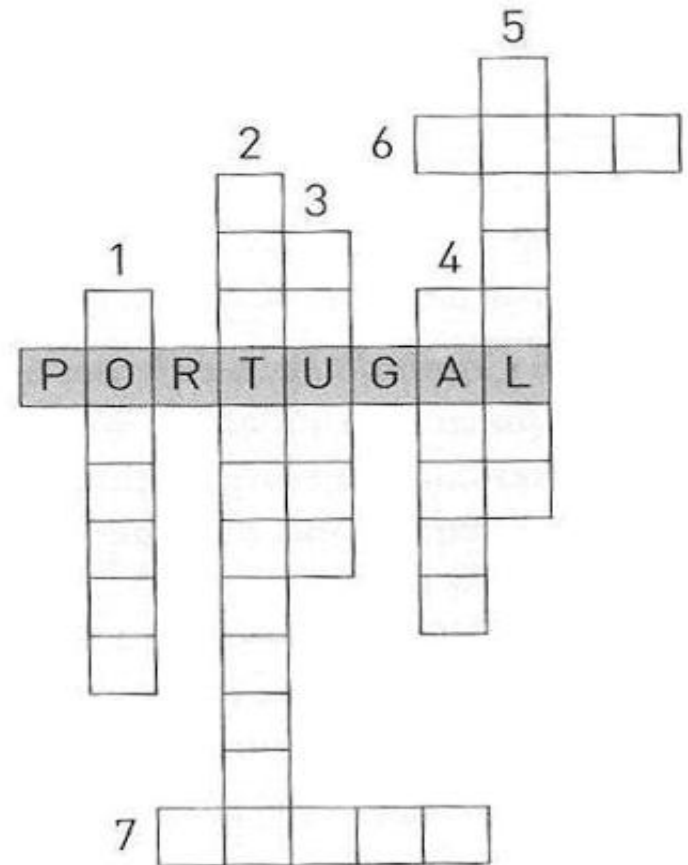
3 – D. Henrique e o seu filho esforçaram-se por alargar este território, tendo lutado contra os ...



4 – D. Afonso Henriques teve ainda de lutar contra o rei de Leão e Castela para obter a independência de Portugal, o que conseguiu, em 1143, com o Tratado de ...

5 – Para defender os territórios conquistados foram construídos muitos.

6 – D. Afonso Henriques teve ainda de esperar até 1179 para que a independência de Portugal fosse reconhecida pelo ...

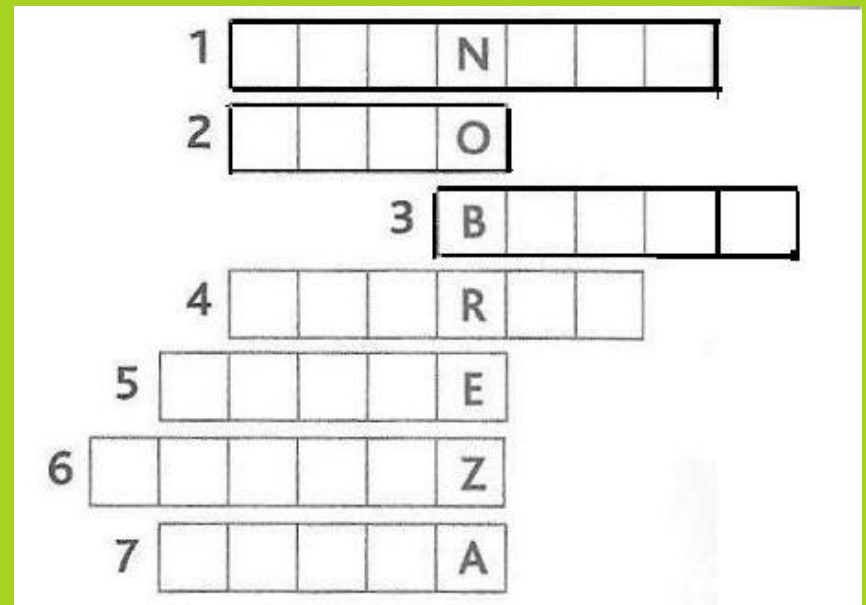
7 – O território governado por D. Afonso Henriques deixou então de ser um Condado e passou a ser um ...






- 1 – Em 1249 terminou a luta contra os mouros e iniciou-se o período de ...
- 2 – D. Afonso III intitulou-se rei de Portugal e do ...
- 3 – O mesmo que raia ou limite.
- 4 – Fronteiras constituídas por elementos da natureza.
- 5 – Portugal tem a forma aproximada de um polígono.
- 6 – Foi este rei que conquistou, definitivamente, o Algarve.
- 7 – Tratado que definiu as fronteiras de Portugal.

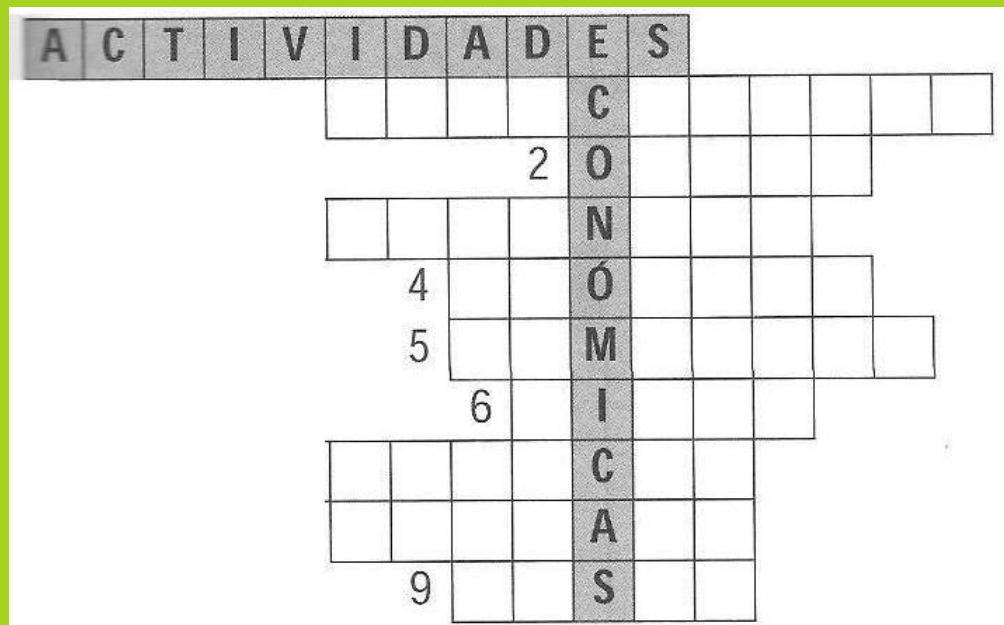
- 1 – Actividade de preparação para a guerra.
- 2 – Animal apanhado na caça de montaria.
- 3 – Actividade a que se dedicavam as damas.
- 4 – Principal actividade da nobreza nos séculos XII e XIII.
- 5 – Alimento mais utilizado nas refeições deste grupo social.
- 6 - Jogo que fazia parte das distrações deste grupo.
- 7 – Outra actividade de preparação para a guerra.



- 1 – Nome dado aos habitantes de um mosteiro.
- 2 – Congregação de monges que viviam segundo uma regras.
- 3 e 6 – Os dois grupos em que se encontra dividido o clero.
- 4 – Grupo social a que pertencem os monges.
- 5 – Principal actividade dos monges.



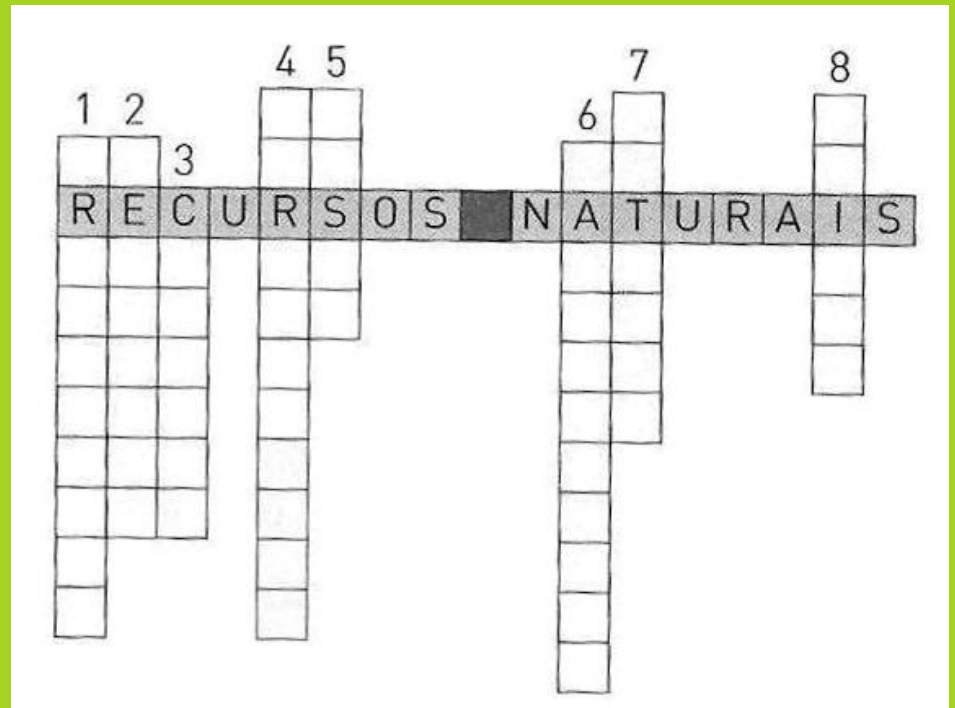
- 1 – A principal actividade no século XIII.
- 2 – Espécie de gado.
- 3 – Actividade que transforma matérias-primas.
- 4 – Nos meios rurais os artesãos produziam para consumo ...
- 5 – A partir do século XIII, esta actividade teve um grande desenvolvimento.
- 6 – Produto agrícola muito utilizado para a confecção de vestuário e de velas para os navios.
- 7 – Actividade ligada ao aproveitamento dos recursos das florestas.
- 8 – Produto agrícola que constituía a base da alimentação do povo.
- 9 – Actividade ligada ao aproveitamento dos recursos dos mares e rios.



1 a 6 – Principais actividades praticadas pela população portuguesa no século XIII.

7 – Nome dado ao comércio praticado no interior do país.

8 – Locais onde os mercadores e camponeses se encontravam para comprar ou vender produtos.





1 E

2 S

3 T

4 U

5 D

6 O

7 G

8 E

9 R

10 A

11 L

1 – Nome que actualmente se dá ao Estudo Geral.

2 – Onde foi criado o primeiro Estudo Geral.

3 – Língua em que eram escritos os documentos oficiais.

4 – Língua em que passaram a ser escritos os documentos oficiais no reinado de D. Dinis.

5 – Rei que mandou criar o primeiro Estudo Geral.

6 – Cidade para onde passou o Estudo Geral em 1308.

7- Cantigas em que o poeta se fingia de mulher e falava do seu amor.


8 – Cantigas de crítica social.

9 – Cantigas em que o homem se dirigia à sua amada.


10 – Livro em que estão reunidas muitas dessas cantigas.

11 – Pessoa que cantava os poemas que outros escreviam.


- 1 – D. João V criou as da Universidade de Coimbra e do Convento de Mafra.
- 2 – Não se reuniram durante este reinado.
- 3 – Grupo social que continuava a enriquecer com o comércio.
- 4 – Tipo de monarquia em que o rei concentra em si todos os poderes.
- 5 – Academia Real criada por D. João V.
- 6 – Abastecia Lisboa de água.
- 7 – Convento mandado construir por D. João V.
- 8 – Tribunal que perseguia muitos cristãos-novos e homens de cultura.





1. Uma característica da arte barroca.
2. Profissão comum do povo.
3. Judeus que se converteram ao cristianismo.
4. Monumento mandado erigir por D. João V.
5. Acto de condenação dos opositores ao rei.



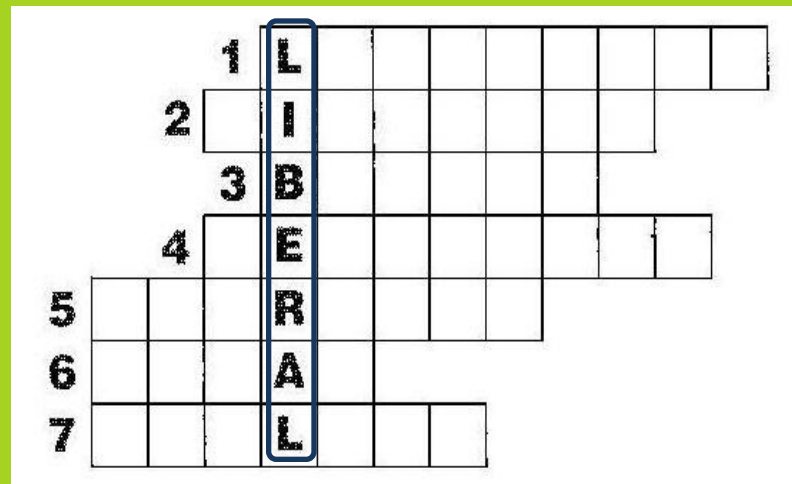
- 1 – Cidade onde se iniciou a revolução de 1820.
- 2 – Grupo social que preparou a revolução.
- 3 – Rei de Portugal que reinava nessa altura (1820).
- 4 – Tipo de monarquia que existia antes da revolução.
- 5 – Tipo de monarquia que passou a existir depois da revolução.
- 6 – Conjunto de pessoas que vão preparar as principais leis do país.
- 7 – Forma de escolha das pessoas que vão preparar essas leis.
- 8 – Nome do documento que contém as principais leis do país.
- 9 – Nome da assembleia onde se discutiam as leis.






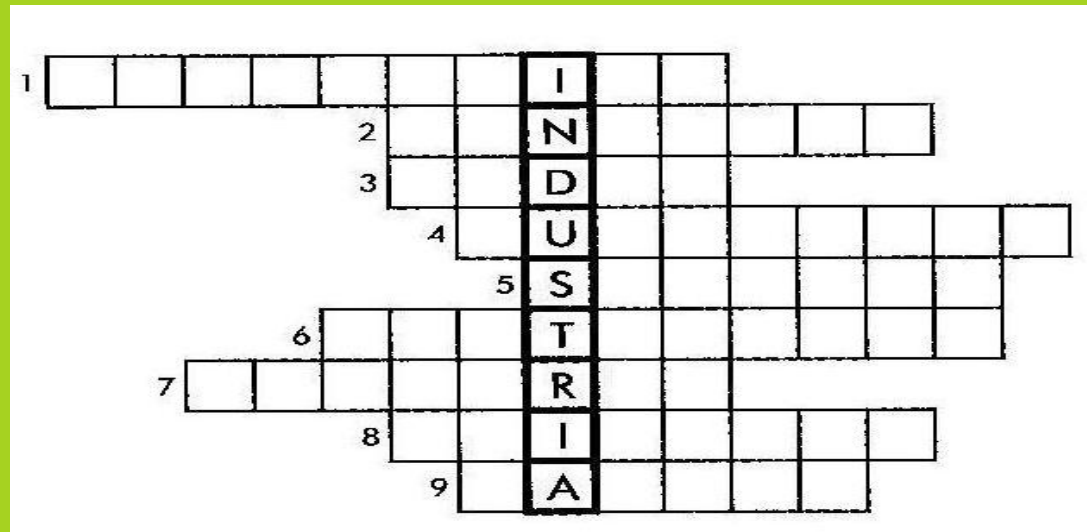
- 1 – A filha de D. Pedro IV era D. Maria da ...
- 2 – Carta de 1826 que D. Miguel foi obrigado a jurar.
- 3 – Arquipélago onde D. Pedro organizou as forças liberais.
- 4 – Cidade portuguesa onde, em 1828, houve uma revolta liberal.
- 5 – Revolta comandada por D. Miguel, em Abril de 1824, para tentar restaurar o absolutismo.
- 6 – Revolta comandada por D. Miguel, em Maio de 1823, em Vila Franca de Xira.
- 7 – Documento assinado em Évora Monte, em 1834.
- 8 – Cidade austríaca onde D. Miguel esteve exilado, entre 1824 e 1826.
- 9 – Província portuguesa onde os liberais desembarcaram e daí partiram para conquistar Lisboa.
- 10 – Tribunal da Igreja que foi extinto pelas Cortes Constituintes.
- 11 – Uma das cores da bandeira da monarquia liberal.

- 1 – No 1º artigo da Constituição de 1822, este era um dos valores fundamentais a manter.
- 2 – Sociedade secreta formada, no Porto, em 1818, pretendia prepara uma revolução liberal.
- 3 – Colónia portuguesa que proclamou a independência no dia 7 de Setembro de 1822.
- 4 – Apelido de um jovem oficial do exército que foi um dos chefes da Revolução de 1820.
- 5 – Foi nas margens deste rio que D. Pedro gritou: “Independência ou morte!”.
- 6 – Apelido daquele que ficou conhecido como o “patriarca da liberdade portuguesa”.
- 7 – Primeiro nome da esposa de D. João VI.



- 1 – Produto agrícola cuja cultura se desenvolveu no século XIX.
- 2 – Direito que dava ao filho mais velho a posse de todas as propriedades.
- 3 – Cereal cuja cultura se desenvolveu no século XIX.
- 4 – Plantou-se onde o solo e o clima não eram favoráveis à cultura dos cereais.
- 5 – Máquina puxada por cavalos utilizada na agricultura.
- 6 – Utilizado para fertilizar os terrenos.
- 7 – Terreno inculto aproveitado para pastagens.
- 8 – Foram seleccionadas para melhorar a produção.
- 9 – Técnica usada para manter a terra em descanso, não a cultivando durante um período de tempo.
- 10 – Apelido do ministro responsável por grande parte das medidas tomadas na agricultura.
- 11 – Tipo de governo de que este ministro fazia parte.





1- A máquina a vapor contribuiu para o desenvolvimento das ...

2 – Importante indústria ligada à exploração do mar.

3 – Indústria tradicional portuguesa.

4 – Centro de indústria têxtil no norte do país.


5 – Importante centro industrial no sul do Tejo.

6 – Centro industrial na zona interior do país.

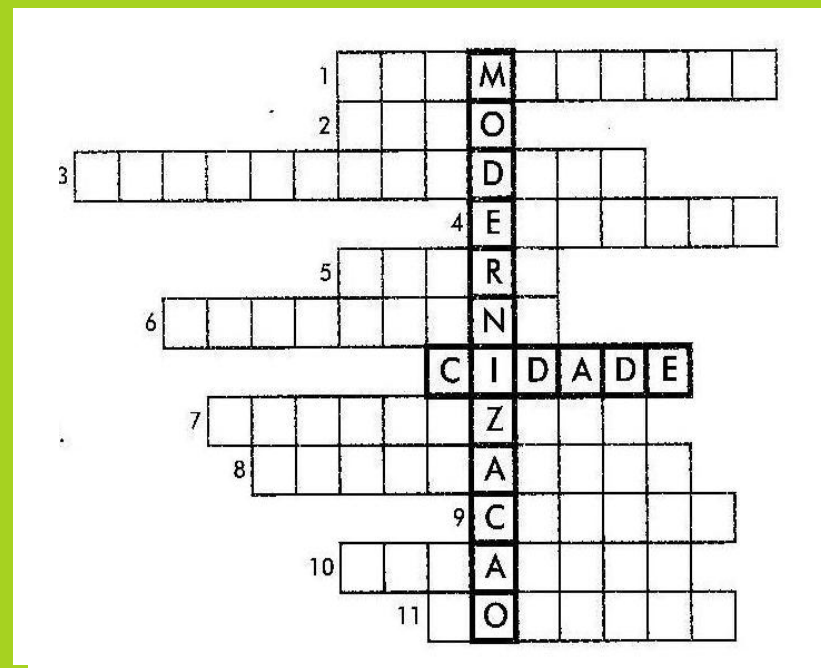
7 – Com a sua entrada nas fábricas, os salários baixaram.

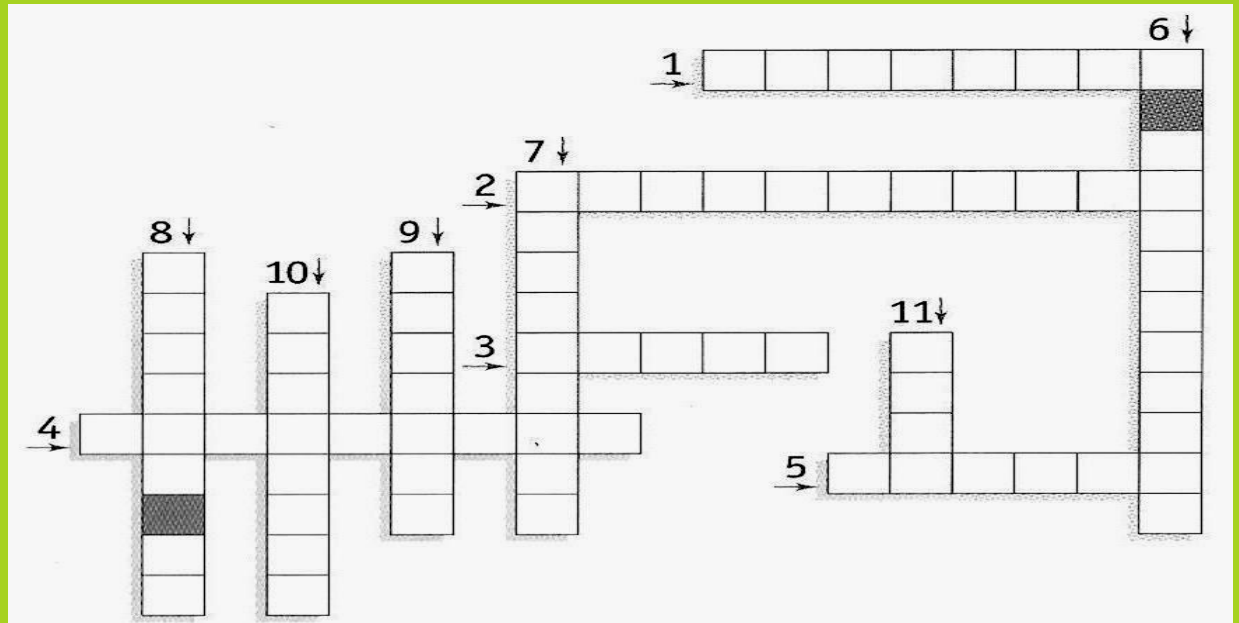
8 – A extracção mineira provocou a sua alteração.

9 – Principal minério utilizado na indústria.



- 1 – A das ruas era, inicialmente, feita a gás.
- 2 – Passou a ser recolhido pelos serviços públicos.
- 3 - Sucedeu ao gás na iluminação das ruas.
- 4 – Passaram a escoar as águas sujas.
- 5 – Meio de transporte colectivo do século XIX.
- 6 – Outro meio de transporte colectivo dessa época.
- 7 – A água passou a chegar mais facilmente a casa das pessoas.
- 8 – Nome dado aos homens que tratavam da manutenção dos candeeiros públicos.
- 9 – Por onde circulava o americano.
- 10 – Diminuíram com a iluminação pública.
- 11 – A higiene nas cidades evitou a sua propagação.

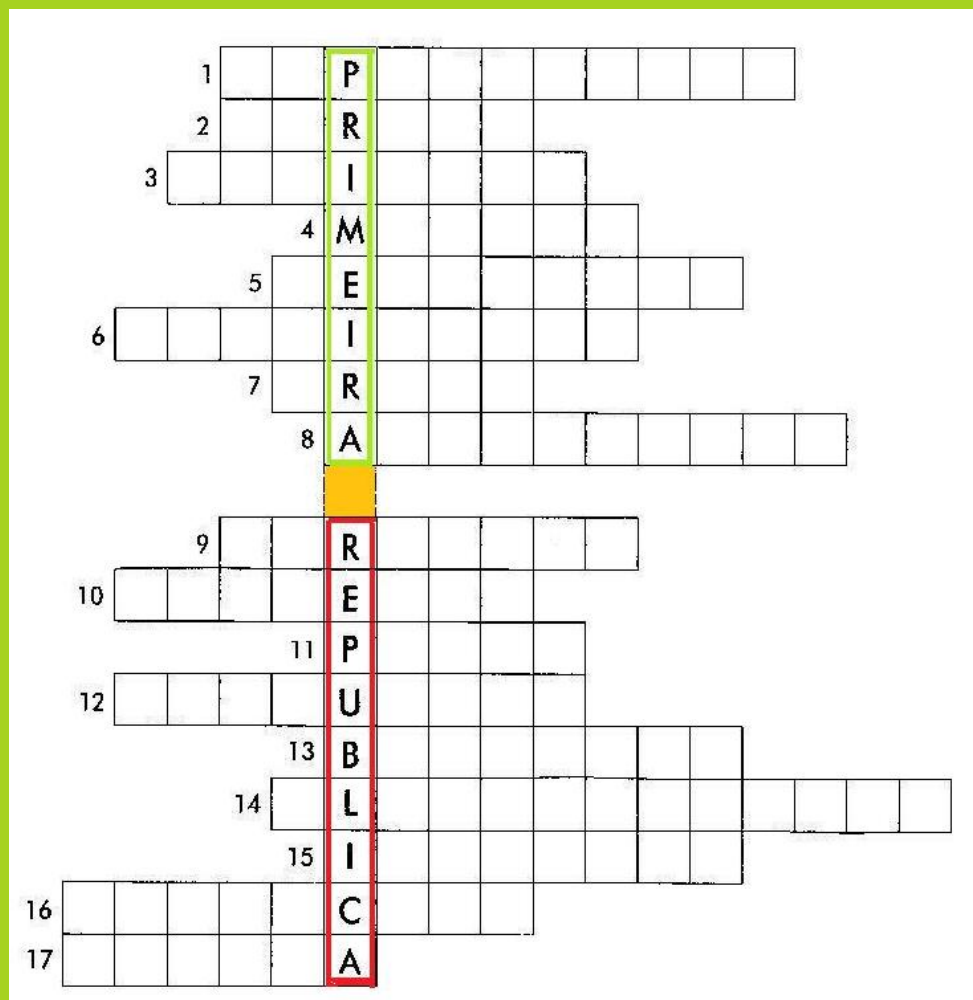




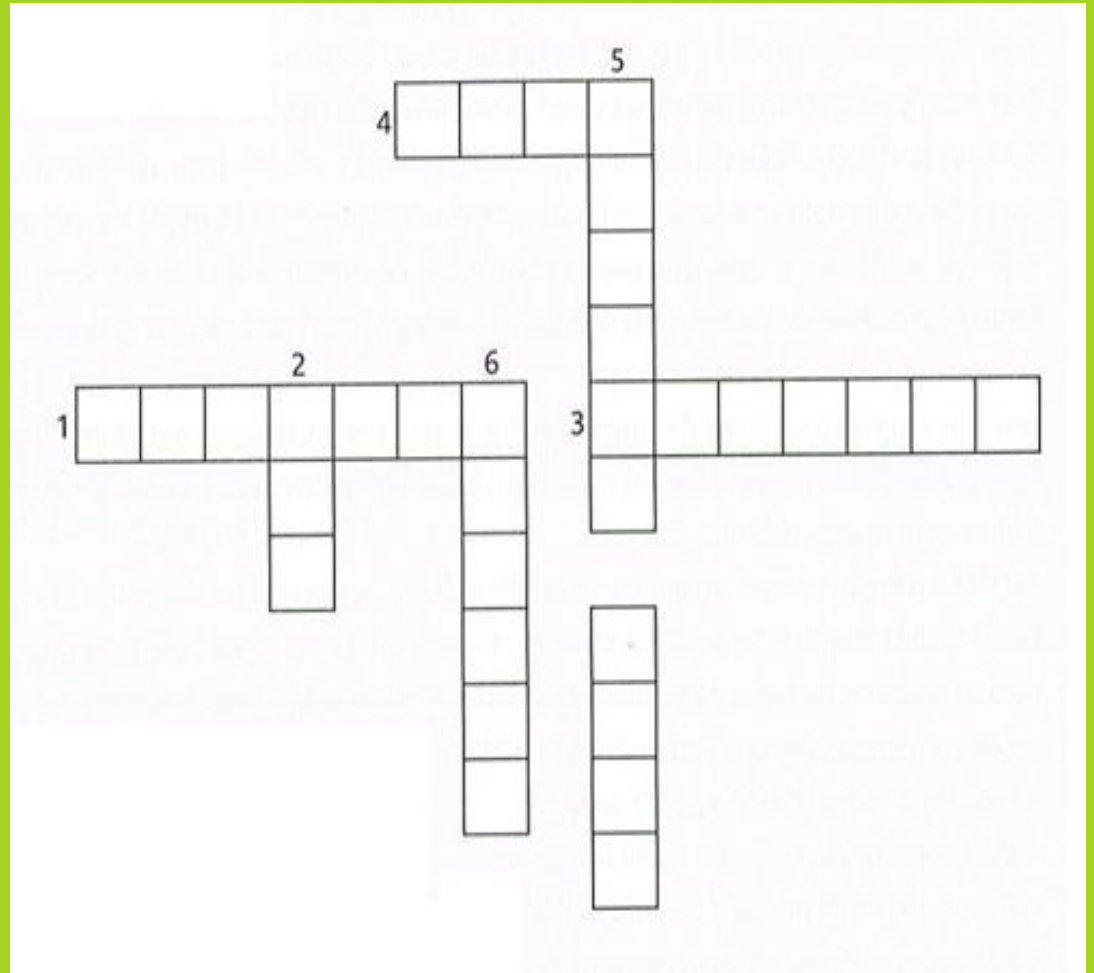
- 1 – A bandeira da monarquia era azul e branca e a da república passou a ser verde e ...
- 2 – Partido que defendia a eleição de um presidente por um período determinado de tempo.
- 3 – O chefe do Governo Provisório da 1ª república foi o Dr. Teófilo ...
- 4 – Nome atribuído ao assassinato do rei e do príncipe herdeiro.
- 5 – Nome do rei que foi assassinado em 1908, em Lisboa.
- 6 – Nome do hino português.
- 7 – Regime político instaurado em 5 de Outubro de 1910.
- 8 – Último rei de Portugal.
- 9 – A revolta realizada pelos republicanos, sem sucesso, ocorreu no Porto em 31 de ...
- 10 – Nome da exigência feita pelos ingleses a Portugal em 1890.
- 11 – Cor do mapa que representava a união de Angola a Moçambique.




- 1 – Partido que pretende substituir a monarquia pela república.
- 2 – Nome próprio do rei de Portugal que foi morto juntamente com o príncipe herdeiro.
- 3 – Ameaça feita pela Inglaterra e propósito dos territórios africanos.
- 4 – Sucedeu a D. Carlos.
- 5 – Aconteceu em Lisboa a 5 de Outubro de 1910.
- 6 – Designação do governo que preparou as eleições.
- 7 – Apelido do presidente desse governo.
- 8 – Foi designado por Constituinte.
- 9 – Os fundamentais estavam garantidos na Constituição.
- 10 – Votou apenas uma delas nas eleições de 1911.
- 11 – Dividia-se em legislativo, executivo e judicial.
- 12 – Poder que pertencia ao Presidente da República e aos ministros.
- 13 – É vermelha e verde e constitui o símbolo da república.
- 14 – Campanha para que um número cada vez maior de pessoas aprendesse a ler e escrever.
- 15 – O governo aumentou-os para pagar a dívida externa.
- 16 – Associação de trabalhadores.
- 17 – Uma das causas da instabilidade.




1. Foi presidente da república.
2. Movimento de Unidade Democrática.
3. General assassinado em Badajoz.
4. Polícia Internacional e de Defesa do estado.
5. Sistema de Governo iniciado em 1933.
6. Onde se travava a guerra colonial.



- 1 – Durante o Estado Novo não existia.
- 2 – Único partido político permitido.
- 3 – Cadeia para presos políticos em Cabo Verde.
- 4 – Luta armada entre os que defendiam a independência das colónias e o exército que defendia a ocupação portuguesa.
- 5 – Iniciais do nome da polícia política.
- 6 – Iniciais de uma organização que lutou contra o regime salazarista.
- 7 – A comissão de ... tinha como função o exame prévio de jornais, livros e filmes.





- 1 – Designação do regime instaurado em Portugal, em 1933.
- 2 – Os de Santa Maria, em Lisboa, e de S. João, no Porto, são exemplos deste tipo de edifícios.
- 3 – Diz-se que existe quando o valor das receitas é igual ao valor das despesas.
- 4 – Antes de ser Presidente do Conselho de Ministros, Salazar ocupou um ministério.
- 5 – Foi feito o aproveitamento hidroelétrico deste rio.
- 6 – Salazar foi assim considerado por ter equilibrado as contas públicas.
- 7 – Órgão de soberania presidido por Salazar durante 36 anos.



- 1 – 4 de Fevereiro de 1961, início da guerra em ...
- 2 – Nome da colónia portuguesa que iniciou a luta armada a 23 de Janeiro de 1963.
- 3 – Esta guerra provocou milhares de mortos e ...
- 4 – Tática de guerra utilizada pelos movimentos de libertação.
- 5 – Nome do movimento de libertação utilizado que deu início à guerra em Moçambique.
- 6 – O mundo livre condenava a continuação desta guerra ...